

Sreda, 13. 5. 2020

TEHNIŠKI DAN



MERIMO

Danes pa merimo!

Merili bomo dolžino, maso in prostornino. Pri delu bomo potrebovali drugi del delovnega zvezka za matematiko in še kaj 😊. Ne bomo rešili vseh nalog, ker bi jih bilo preveč. Če pa želiš, lahko rešiš še kakšno po svoji izbiri.

MERJENJE DOLŽINE

1. Odpri drugi del delovnega zvezka za matematiko na **strani 46**. Pogledaj si **2. nalogo**. Otroci se igrajo in merijo razdaljo do balinčka na različne načine.

Če se boš tako kot otroci na sliki, igral tudi ti, reši to nalogo.

2. Na **strani 47** pogledaj **3. nalogo** in opiši sliko. Merimo lahko tudi s koraki. Povsod po svetu pa merijo dolžino z metrom.

Osnovna enota za merjenje dolžine je **meter** (m).

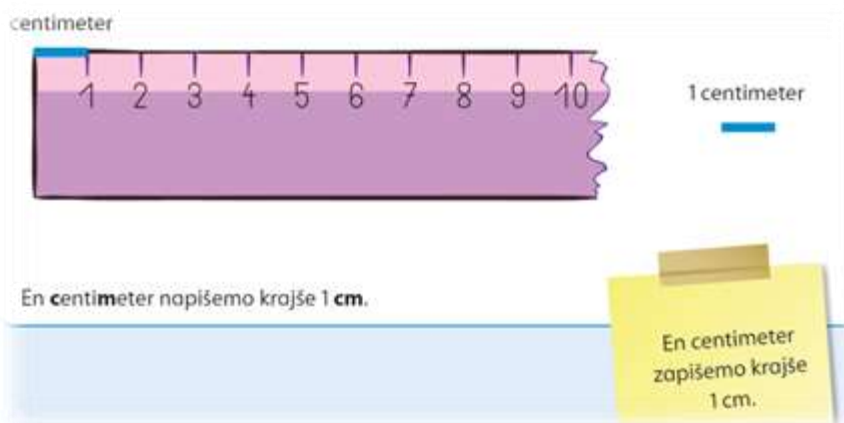


3. Si dobil mojo pošto in z njo en meter dolg trak? Vzemi ga v roke ter izmeri dolžino svoje postelje in vaše kuhinje. To je **4. naloga** na **strani 47**. Lahko izmeriš tudi kaj drugega 😊.

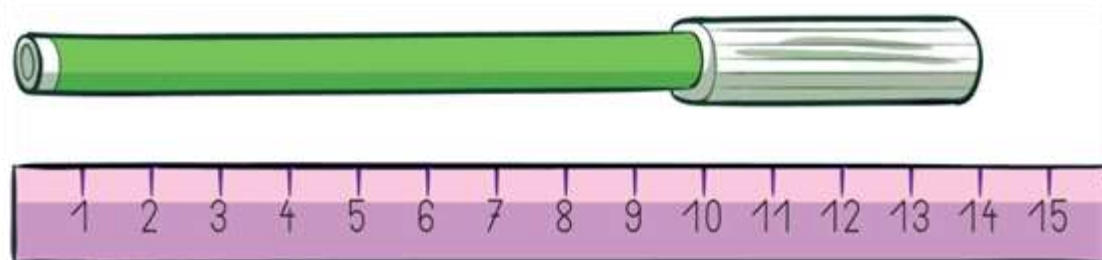


4. Na strani 48 reši 6. in 7. nalogo. Ni težko 😊.

5. Krajša enota kot meter je centimeter. Z njim merimo krajše stvari. Reši stran 49. Zabavno bo, saj boš potreboval tudi svoje ravnilo.



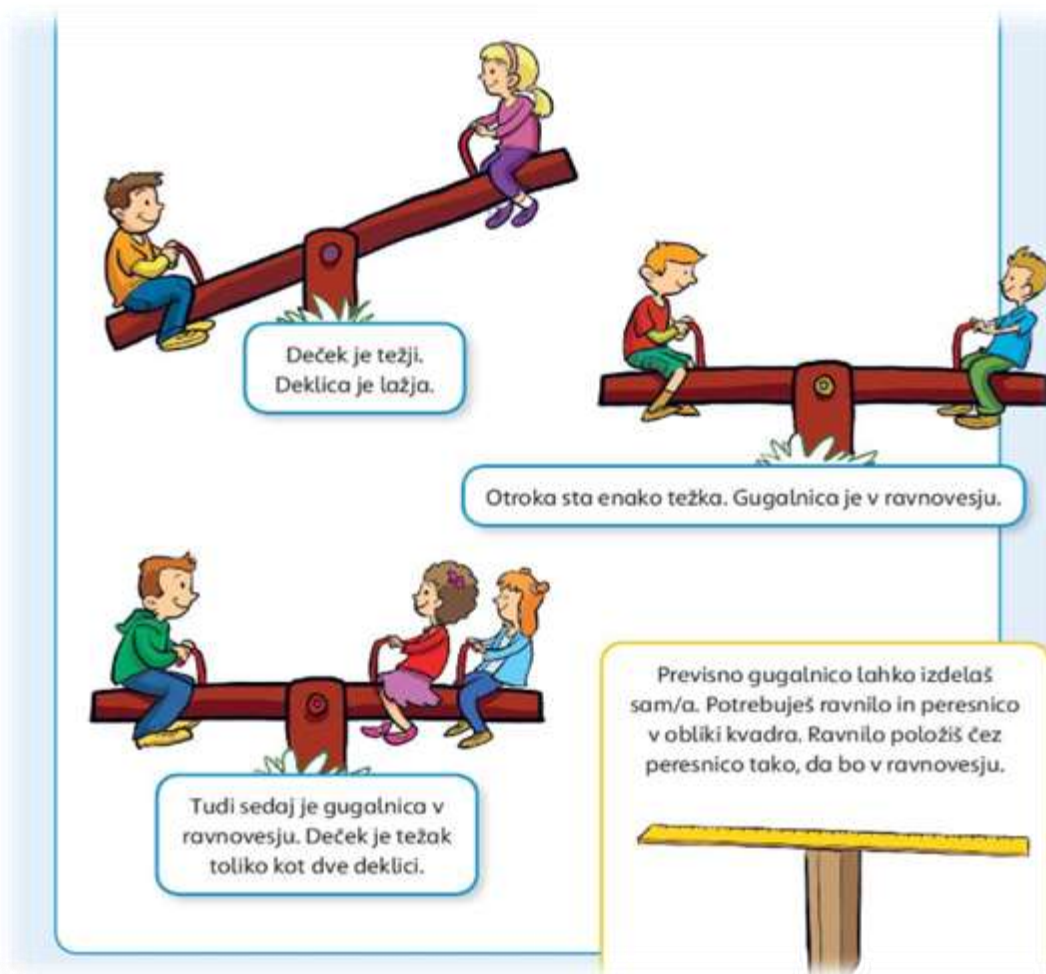
6. Bi rad meril dolžine predmetov in risal črte s svojim ravnilom? Reši 12. in/ali 15. nalogo na strani 50.



Flomaster je dolg 14 cm.

TEHTANJE

1. Razmisli, kdo je v vaši družini najtežji.



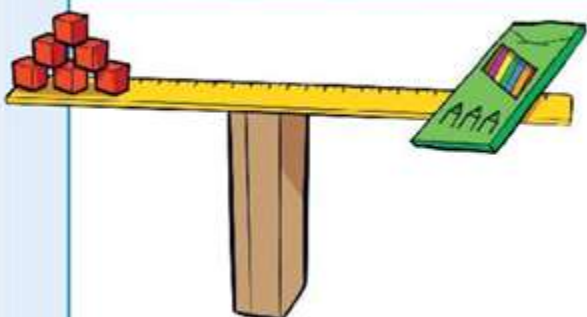
2. S tehtnicami ugotavljamo, koliko kdo tehta in koliko kaj tehta. Poznamo več vrst tehtnic. Na strani 52 si poglej različne vrste tehtnic in razmisli, kje jih uporabljamo. Reši nalogo 21.



1. Poimenuj predmete na sliki.
2. Kdo jih uporablja?
3. Za kaj jih uporabljajo?

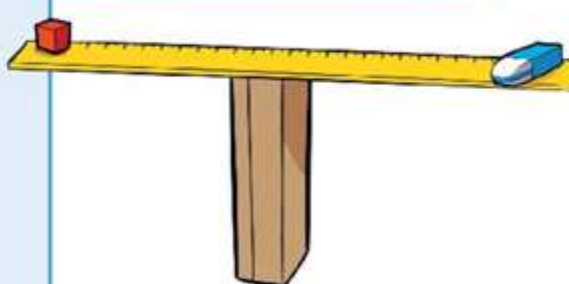
3. Tehtnice so v ravnovesju. **Poglej** si spodnje sličice in **premisli**.

Koliko kock tehta škatla z barvicami?



Škatla z barvicami tehta 6 kock.

Koliko kock tehta radirka?



Radirka tehta 1 kocko.

Koliko tehtajo banane?



Banane tehtajo 2 kg.

Koliko tehta krompir?



Krompir tehta 7 kg.

4. Osnovna enota za merjenje mase je **kilogram** (kg).

Reši **22. in 23. nalogo** na **strani 53**.

Kupila sem en kilogram fižola.



Besedo kilogram zamenjamo s kratico kg.
En kilogram zapišemo krajše 1 kg.

1 kilogram = 1 kg

MERJENJE PROSTORNINE

1. **Opazuj in povej**, kaj ne sodi zraven. **Pojasni**.



Igraj se z vodo in pri tem uporabljal različno velike posode, plastenke, lončke, žličke ...

2. Na **strani 63** si izberi **2., 3. ali 4. nalogo** in jo reši. Saj bo šlo, kajne?

3. Osnovna enota za merjenje prostornine je **liter (l)**.
Reši **5. nalogo** na **strani 64**.



4. **Poglej slike. Povej**, koliko tekočine je v embalaži?

