

Torek, 12. 5. 2020

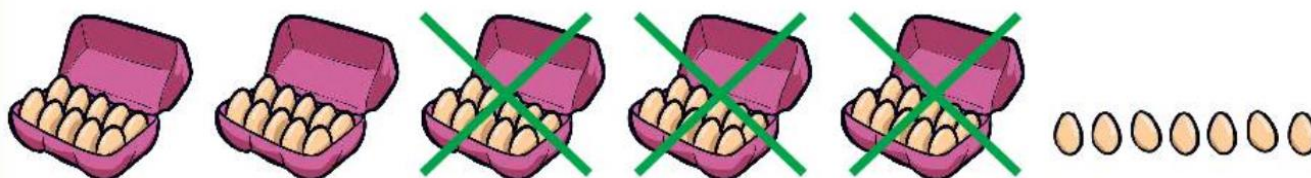
MATEMATIKA



ODŠTEVAMO (DE – DE)

1. Preberi in si oglej spodnja prikaza.

V šolski kuhinji so kupili 57 jajc. 30 so jih porabili za peko palačink. Koliko jajc jim je ostalo?



$$57 - 30 = 27$$

Ostalo jim je 27 jajc.

Koliko palčk ni prečrtanih?

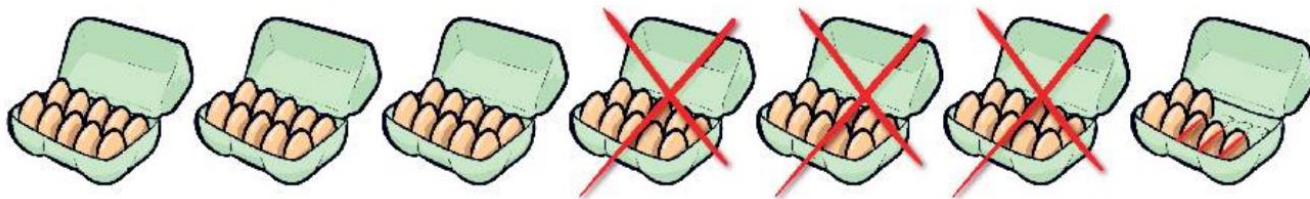


$$94 - 40 = 54$$

54 palčk ni prečrtanih.

2. Preberi in si poglej spodnja prikaza.

Koliko jajc ni prečrtanih?



$$67 - 33 = 34$$

Prečrtanih ni 34 jajc.

Koliko palčk ni prečrtanih?



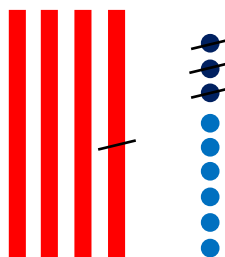
$$88 - 56 = 32$$

32 palčk ni prečrtanih.

3. Reši 33. stran v drugem delu delovnega zvezka za matematiko.

Pri reševanju računov si lahko pomagaš z risanjem. Glej spodnji primer.

Primer:



$$49 - 13 = 36$$