


POKAŽI, KAJ ZNAŠ

1. NARIŠI TOLIKO CVETNIH LISTOV, KOT PRIKAZUJE ŠTEVILO.



POBARVAJ ROŽO, KI IMA NAJMANJ CVETNIH LISTOV.

2. VPIŠI MANJKAJOČA ŠTEVILA.

	4		2	
--	---	--	---	--

10		8			5	
----	--	---	--	--	---	--

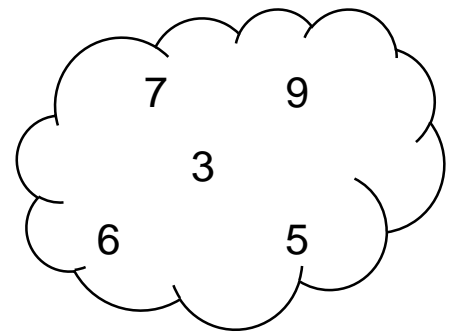
		10
--	--	----

6		
---	--	--


	9	
--	---	--

3. UREDI ŠTEVILA PO VELIKOSTI.
PRIČNI Z NAJMANJŠIM ŠTEVILOM.


--



4. PREŠTEJ LIKE IN V TABELO ZAPIŠI USTREZNO ŠTEVILO.



KATERIH LIKOV JE NAJVEČ? OBKROŽI.



5. IZRAČUNAJ.

$2 + 3 = \underline{\quad}$

$3 + 5 = \underline{\quad}$

$10 - 8 = \underline{\quad}$

$10 - 7 = \underline{\quad}$

$7 - 2 = \underline{\quad}$

$1 + 9 = \underline{\quad}$

$7 + 2 = \underline{\quad}$

$8 - 4 = \underline{\quad}$



$6 + 0 = \underline{\quad}$

$9 - 8 = \underline{\quad}$

$6 + 4 = \underline{\quad}$

$3 - 3 = \underline{\quad}$

6. SESTAVI RAČUN IN IZRAČUNAJ.



Standardi znanja: Pravilno šteje, zapiše, primerja in ureja naravna števila do 10.

Sešteva in odšteva v množici naravnih števil do 10, vključno s številom 0.

Uporabi ustrezno računsko operacijo pri reševanju slikovnih nalog.

