

① V škatli sta 2 rdeča balona in en zelen.

Predstavljaš si, da balone vlečeš iz škatle, ne da bi gledal.

Poveži s pravilnimi odgovori.

ČE IZVLEČEM 2 BALONA, BOSTA RDEČA. •

ČE IZVLEČEM 2 BALONA, BOSTA ZELENJA. •

ČE IZVLEČEM 3 BALONE, BO EN ZELEN. •

ČE IZVLEČEM 2 BALONA, BO EN MODER. •

ČE IZVLEČEM EN BALON, BO TA ZELEN. •

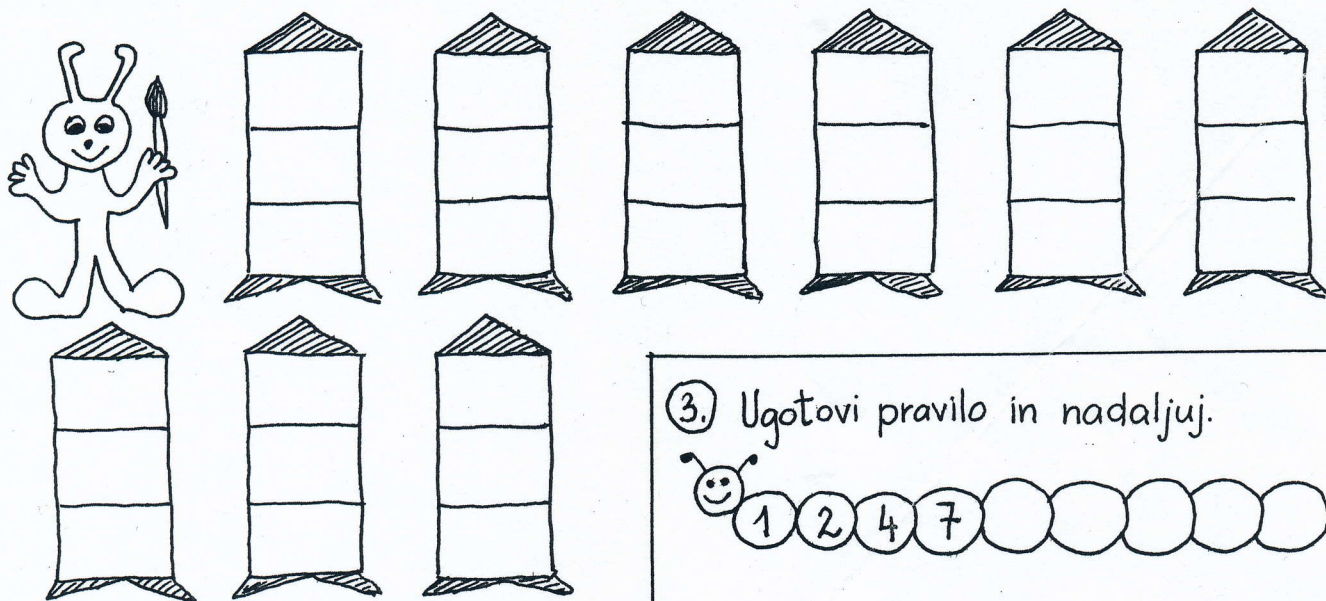
• MOGOČE

• NEMOGOČE


• ZAGOTOVO

② Marsovček barva svoje rakete. Vsako bo pobarval s tremi barvami: z rdečo, rumeno in zeleno.

Rad bi imel vsako raketo drugačno. Koliko raket bo lahko pobarval?




③ Ugotovi pravilo in nadaljui.



④ Potuj po navodilu.

Do česa prideš?



⑤ Metuljevo krilo z večjim številom pobarvaj rdeče, z manjšim pa rumeno.

