

Četrtek, 23. 4. 2020

MATEMATIKA



SEŠTEVAM DO 100

1. Katera števila so zapisana spodaj? **Nalogo reši ustno.**

število zapisano z D in E	število	število zapisano z besedo (črkuj)
7 D 8 E	78	osemisedemdeset
5 D 1 E		
8 D 0 E		
10 D		
2 D 9 E		
9 D 9 E		

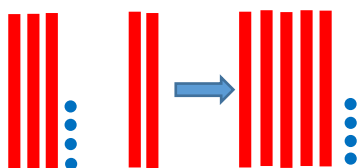
1. **Odpri delovni zvezek** za matematiko na **strani 27.**

12. naloga

Učenca sta računala račun $34 + 25 = 59$. Oglej si fotografijo. Povej, kako je računala deklica in kako je računal deček? Ali sta oba dobila enak rezultat?


$$34 + 25 = 59$$

Deklica je najprej prištela **desetici**.



$$34 + 20 = 54$$

in ni pozabila še na 5 E



$$54 + 5 = 59$$

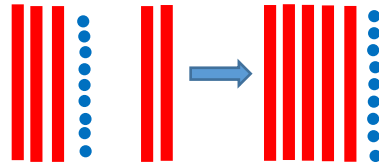
$$34 + 25 = 59$$

Deček je najprej prištel enice.



$$34 + 5 = 39$$

in ni pozabil še na 2 D



$$39 + 20 = 59$$

13. naloga

Glasno preberi besedilno nalogo. Sestavi račun in ga izračunaj.

14. naloga

Glasno preberi vprašanje. Znaš prebrati podatke iz tabele? Sestavi račun in ga izračunaj.