

Sreda, 15. 4. 2020

MATEMATIKA



PRIŠTEVANJE ENIC DVOMESTNEMU ŠTEVILU BREZ PREHODA DESETICE (DE+E)

1. Preberi in si oglej spodnje slike.

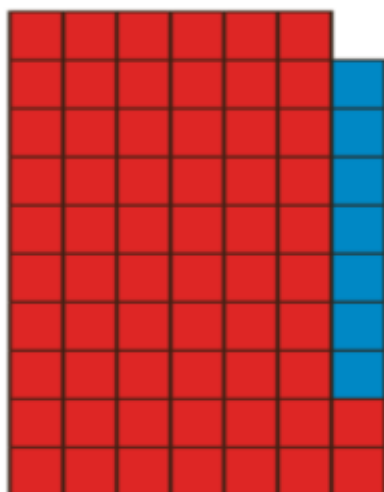
V škatlah je 44 rjavih jajc. Mama doda 4 bela jajca.
Koliko jajc ima mama?



$$44 + 4 = 48$$

Mama ima 48 jajc.

Preštej kvadratke in preberi račun, ki je prikazan na 2 načina.



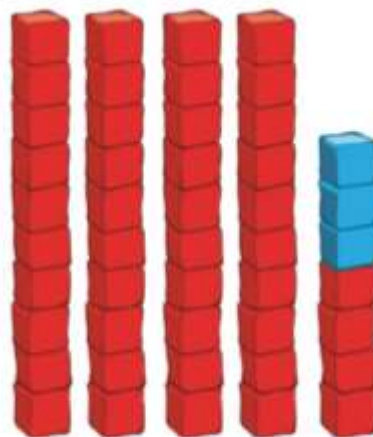
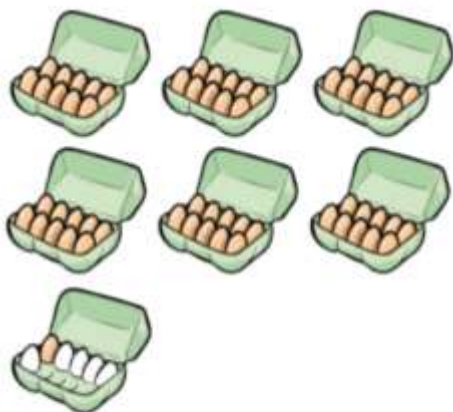
$$62 + 7 = 69$$

ali



$$62 + 7 = 69$$


Oglej si sliko in sestavi račun. **Nalogo lahko rešiš ustno.**



2. **Reši 24. stran** v drugem delu delovnega zvezka za matematiko.

Pri reševanju računov si lahko pomagaš z risanjem. **Glej spodnji primer.**

Primer:



$$46 + 3 = 49$$