


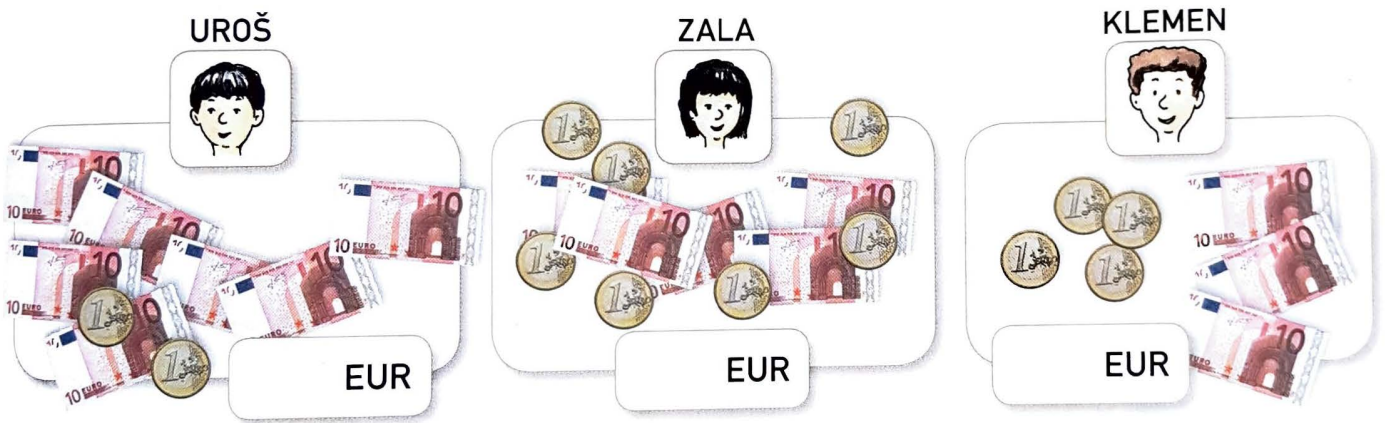
20 Vpiši števila in poveži.



21 Primerjaj števili in vstavi znak $<$, $>$ ali $=$.

$66 \square 71$ $44 \square 44$ $100 \square 10$ $83 \square 87$
 $95 \square 59$ $22 \square 33$ $28 \square 48$ $79 \square 79$

22 Koliko denarja ima vsak otrok?




Kdo ima več denarja: Zala ali Klemen? _____

Kdo ima manj denarja: Klemen ali Uroš? _____

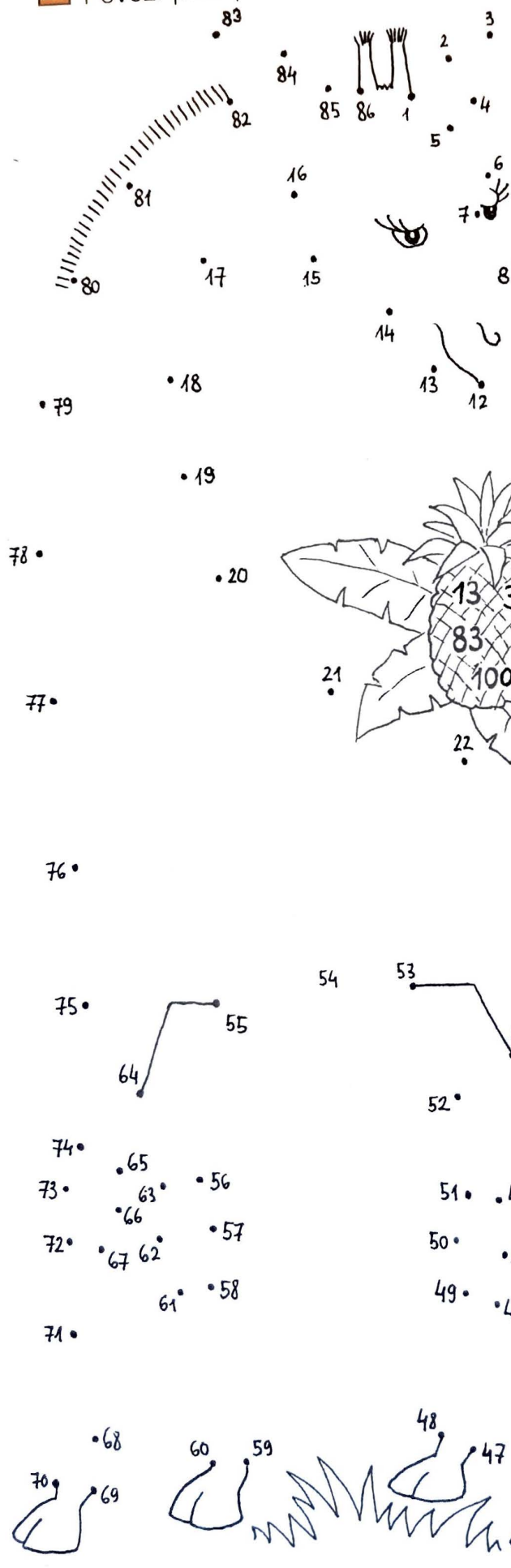
Največ denarja ima _____.

Obkroži, kdo ima več kot 50 €. UROŠ ZALA KLEMEN

23 Razporedi kartončka na oba načina. Kateri števili si dobil? Preberi ju.



24 Poveži pike po vrsti. Začni pri 1.



25 Pobarvaj polja s števili, večjimi od 60.



26 Z označi največje število, z pa najmanjše.

27 Uredi števila po velikosti. Začni z najmanjšim številom.

