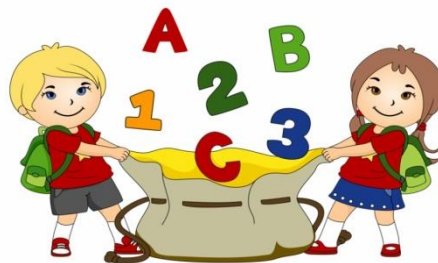


Ponedeljek, 23. 3. 2020

MATEMATIKA



ČRTE – RAVNE, KRIVE, SKLENJENE, NESKLENJENE


1. Preberi in si oglej:

PRI NESKLENJENI
ČRTI SE ZAČETEK IN
KONEC NE STIKATA.

NESKLENJENE ČRTE



SKLENJENE ČRTE




PRI SKLENJENI ČRTI SE
ZAČETEK IN KONEC
STIKATA.

RAVNA ČRTA



LOMLJENA ČRTA



TUDI PRI RISANJU LOMLJENIH
ČRT UPORABLJAMO RAVNILO.

Acti

2. Pripravi si daljšo vrvico in z njo oblikuj:

- ravno črto,
- krivo sklenjeno črt,
- krivo nesklenjeno črto.

Kaj si moral narediti, da si z vrvico oblikoval ravno črto? Povej.

3. Pripravi 6 palčk (lahko uporabiš tudi barvice) in z njimi oblikuj:

- ravno črto,
- lomljeno sklenjeno črto,
- lomljeno nesklenjeno črto.

4. Reši 19. in 20. stran v drugem delu delovnega zvezka za matematiko.

Naloge delaj samostojno. Ko rešiš naloge, jih pokaži odrasli osebi. Pregledali jih bomo v šoli.